



Time: 10 Minutes	Paper Math 2	Total Marks: 10
-------------------------	---------------------	------------------------

6th Month, 3rd Week, 3rd Day	Syllabus: Exercise # 2. Q # 2
------------------------------	--------------------------------------

Write the total number of straight and curved lines in the given shapes. (10)

دی گئی اشکال میں سیدھی اور مڑی ہوئی لائنوں کی تعداد لکھیں۔



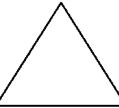
Shapes	اشکال	Straight lines	سیدھی لائنز	Curved lines	مڑی ہوئی لائنز
					
					
					

Time: 10 Minutes	Paper Math 2	Total Marks: 10
-------------------------	---------------------	------------------------

6th Month, 3rd Week, 3rd Day	Syllabus: Exercise # 2. Q # 2
------------------------------	--------------------------------------

Write the total number of straight and curved lines in the given shapes. (10)

دی گئی اشکال میں سیدھی اور مڑی ہوئی لائنوں کی تعداد لکھیں۔

Shapes	اشکال	Straight lines	سیدھی لائنز	Curved lines	مڑی ہوئی لائنز
					
					
					

Time: 10 Minutes	Paper Math 2	Total Marks: 10
-------------------------	---------------------	------------------------

6th Month, 3rd Week, 3rd Day	Syllabus: Exercise # 2. Q # 2
------------------------------	--------------------------------------

Write the total number of straight and curved lines in the given shapes. (10)

دی گئی اشکال میں سیدھی اور مڑی ہوئی لائنوں کی تعداد لکھیں۔

Shapes	اشکال	Straight lines	سیدھی لائنز	Curved lines	مڑی ہوئی لائنز
					
					
					

Time: 10 Minutes	Paper Math 2	Total Marks: 10
-------------------------	---------------------	------------------------

6th Month, 3rd Week, 3rd Day	Syllabus: Exercise # 2. Q # 2
------------------------------	--------------------------------------

Write the total number of straight and curved lines in the given shapes. (10)

دی گئی اشکال میں سیدھی اور مڑی ہوئی لائنوں کی تعداد لکھیں۔

Shapes	اشکال	Straight lines	سیدھی لائنز	Curved lines	مڑی ہوئی لائنز
